

# Reproduire et tracer un triangle à l'aide d'instruments

CM2  
Période 2



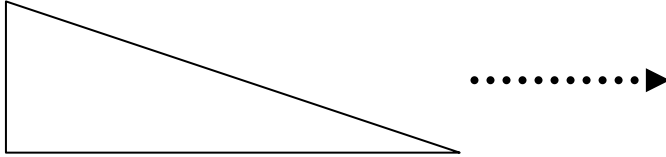
Compétence évaluée :

A VA NA

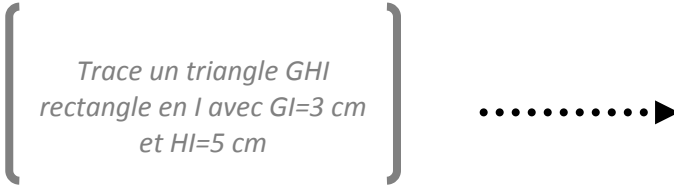
1. Reproduire et tracer un triangle rectangle à l'aide d'une équerre et d'une règle.

1 Reproduis ce triangle rectangle :

...../5



2 Construis le triangle rectangle suivant :



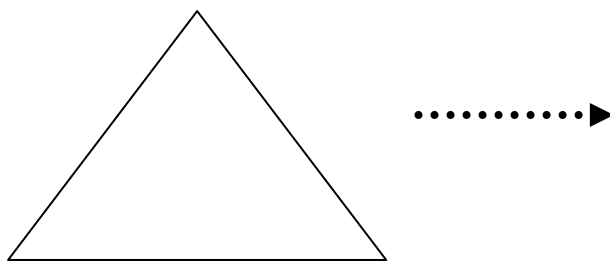
Compétence évaluée :

A VA NA

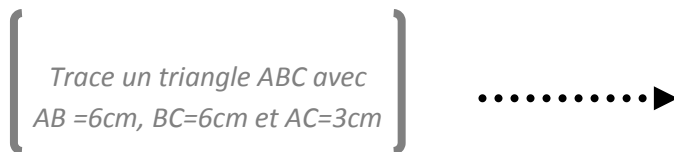
2. Reproduire et tracer un triangle isocèle à l'aide d'un compas et d'une règle.

3 Reproduis ce triangle isocèle :

...../5



4 Construis le triangle isocèle suivant :

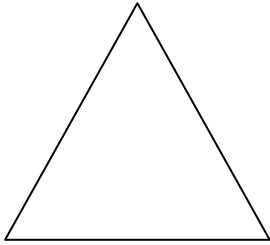


Date :

Prénom :

... suite de l'évaluation ...

Compétence évaluée :	A	VA	NA
3. Reproduire et tracer un triangle équilatéral à l'aide d'une équerre et d'une règle.			
<u>5</u> Reproduis ce triangle équilatéral :	...../5		



6 Construis le triangle équilatéral suivant :

Trace un triangle DEF équilatéral de côté 4cm.



Compétence évaluée :	A	VA	NA
2. Reproduire une figure complexe sans programme de construction et en se servant de ses propriétés et de ses symboles.			
<u>7</u> Reproduis cette figure à main levée, avec tes instruments et en respectant les mesures écrites.	...../5		

