

Note la plus haute : \_\_\_/20 Moyenne de la classe : \_\_\_/20 Note la plus basse : \_\_\_/20

Compétence évaluée :	A	VA	NA
1. Connaître les propriétés des diagonales des quadrilatères.			

1 Complète le tableau suivant en mettant une croix dans les bonnes cases. pour chaque quadrilatère.

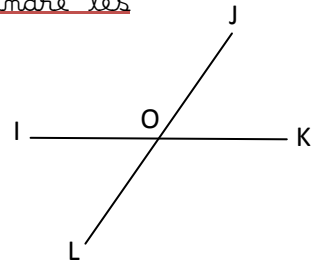
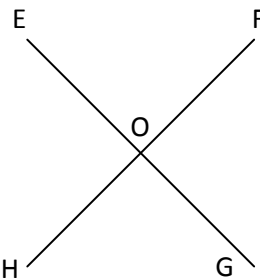
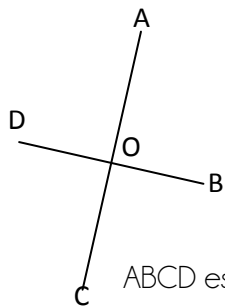
...../4

	Les diagonales :		
	sont perpendiculaires	sont de même longueur	se coupent en leur milieu
carré			
rectangle			
losange			

Compétence évaluée :	A	VA	NA
2. Vérifier la nature d'un carré, d'un rectangle et d'un losange.			

2 Observe et mesure les diagonales suivantes. et écris les propriétés des diagonales ainsi que la nature du quadrilatère. sans joindre les extrémités.

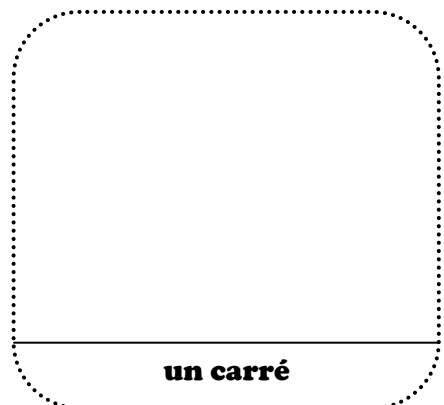
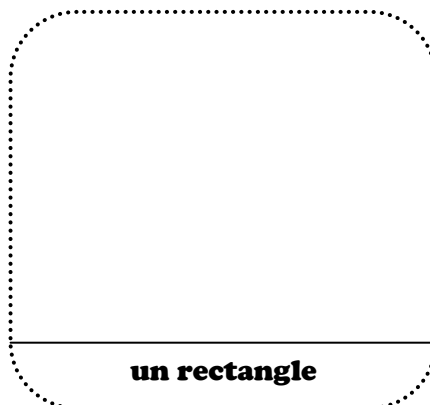
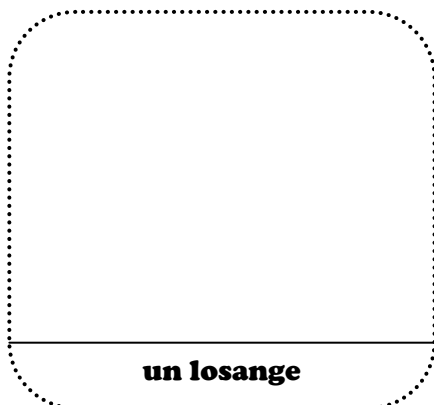
...../10



Compétence évaluée :	A	VA	NA
3. Tracer des quadrilatères à partir de leurs diagonales.			

3 Trace les figures demandées. en commençant par les diagonales.

...../6



Date :

Prénom :