

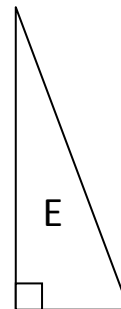
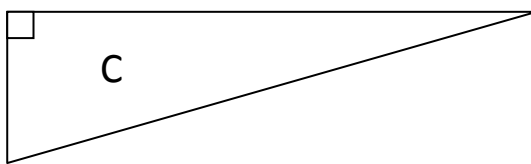
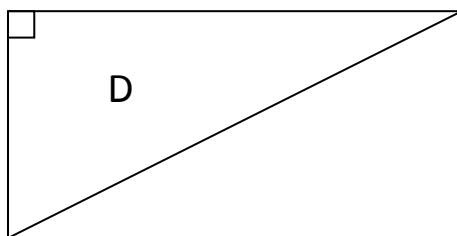
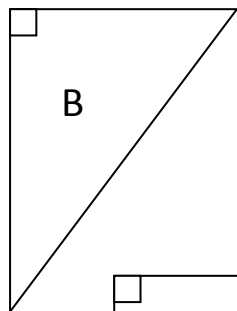
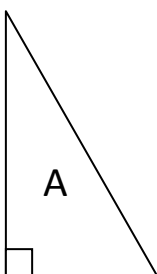
Note la plus haute : ___/20 Moyenne de la classe : ___/20 Note la plus basse : ___/20

Compétence évaluée :	A	VA	NA
----------------------	---	----	----

1. Calculer l'aire d'un triangle rectangle

1 Mesure les côtés de l'angle droit puis calcule l'aire de chaque triangle :

...../5



N'oublie pas
les unités
d'aire !



A : B : C :


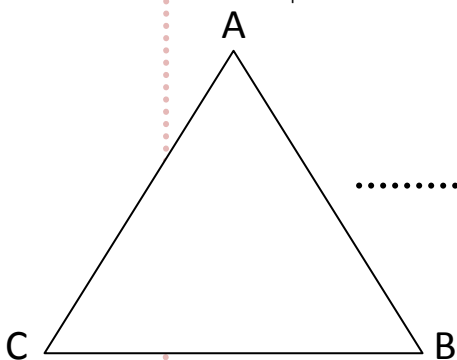
D : E :

Compétence évaluée :	A	VA	NA
----------------------	---	----	----


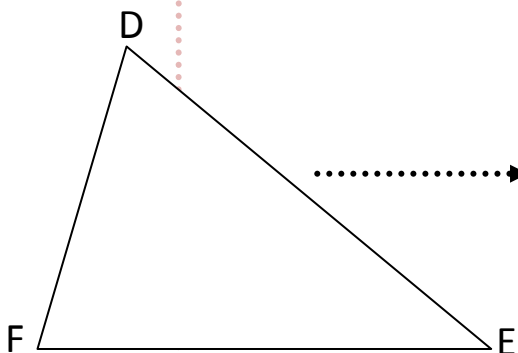
2. Tracer une hauteur et appliquer la formule du calcul de l'aire d'un triangle.

2 Reproduis chacun de ces triangles et calcule leur aire :

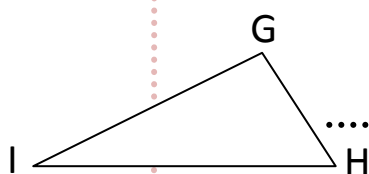
...../15



.....
.....
.....
.....
.....



.....
.....
.....
.....
.....



.....
.....

Date :

Prénom :