

Note la plus haute : ____/20 Moyenne de la classe : ____/20 Note la plus basse : ____/20

Compétences évaluées :

1. En contrôle continu : Avoir appris et compris les mots-clés et leçons des 4 séances.

2. Connaissances des programmes : L'Union européenne : connaître ses caractères géographiques et politiques.

A	B	C	D

1 L'Europe géographique.a) Quels sont les **trois principaux reliefs** en Europe ? Où se situent-ils ? /3

.....

.....

b) Quels sont les **cinq climats** en Europe ? /5

.....

.....

c) Quels sont les climats que l'on retrouve **en France** ? /3

.....

.....

d) Quel est le climat **le plus favorable** et pourquoi ? /2

.....

.....

e) Ecris ce qui marque **la limite de l'Europe** : /4

- Au Sud :
- Au Nord :
- A l'est :
- A l'ouest :

2 L'Europe politique.

a) Colorie en bleu les pays fondateurs de l'Union Européenne. /6

b) Entoure en vert les pays qui les ont rejoint en premier. /1

c) Entoure en orange les pays qui les ont rejoint en deuxième /1

d) Entoure en violet les pays qui les ont rejoint en dernier. /1

e) Qu'est-ce qui a été créé avant l'U.E. et à quelles dates ? (2 réponses) /4

→ en

→ en

Date :

prénom :

f) Dans quel but l'Union Européenne a-t-elle été créée ?

/ 1

.....

.....

g) Quels sont **les avantages** d'en faire partie ? (donnes-en au moins trois)

/ 3

.....

.....

.....

h) Comment appelle-t-on la zone permettant la libre circulation des biens et personnes ?

/ 1

.....

3 L'Europe : un espace attractif.

Explique, le plus précisément possible :

a) Pourquoi les immigrés viennent s'installer en Europe :

/ 2

.....

.....

b) Pourquoi l'Europe est la première destination touristique mondiale :

/ 2

.....

.....

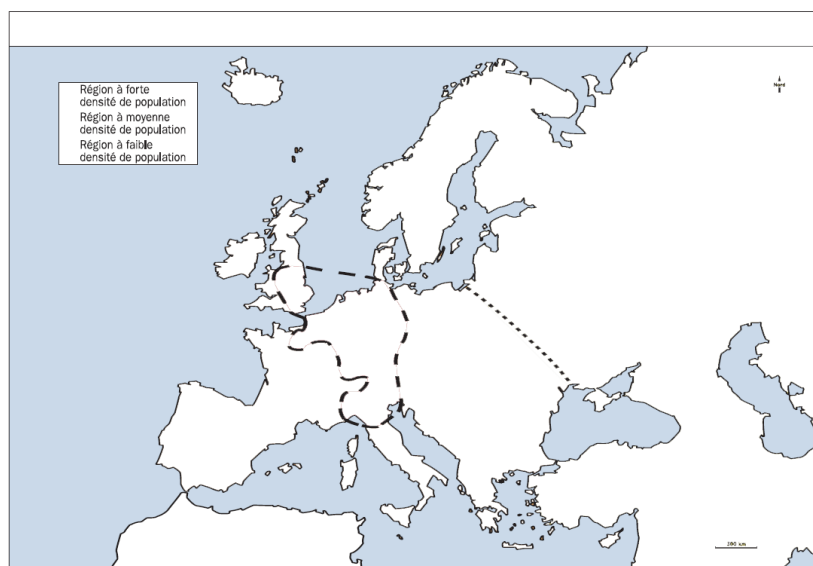
c) Pourquoi les entreprises viennent s'installer en Europe :

/ 2

.....

.....

4 La répartition de la population en Europe.



a) Colorie en rouge les régions à forte densité de population

/ 1

b) Colorie en orange les régions à moyenne densité de population

/ 1

c) Colorie en jaune les régions à faible densité de population

/ 1

d) Complète la légende et donne un titre à la carte.

/ 1

a) Où vit principalement la population européenne ? (deux endroits)

/ 2

.....

.....

b) Pour quelle raison les campagnes sont-elles désertées au profit des villes ?

/ 2

.....

.....

.....

L'Union européenne

Correction de l'évaluation

1 L'Europe géographique.

a) Quels sont les **trois principaux reliefs** en Europe ? Où se situent-ils ?

les plaines au centre de l'Europe, les moyennes montagnes au sud, centre et nord de l'Europe, les hautes montagnes au sud de l'Europe.

b) Quels sont les **cinq climats** en Europe ?

Le climat méditerranéen, océanique, de haute montagne, polaire et continental.

c) Quels sont les climats que l'on retrouve **en France** ?

Le climat océanique, méditerranéen et de haute montagne.

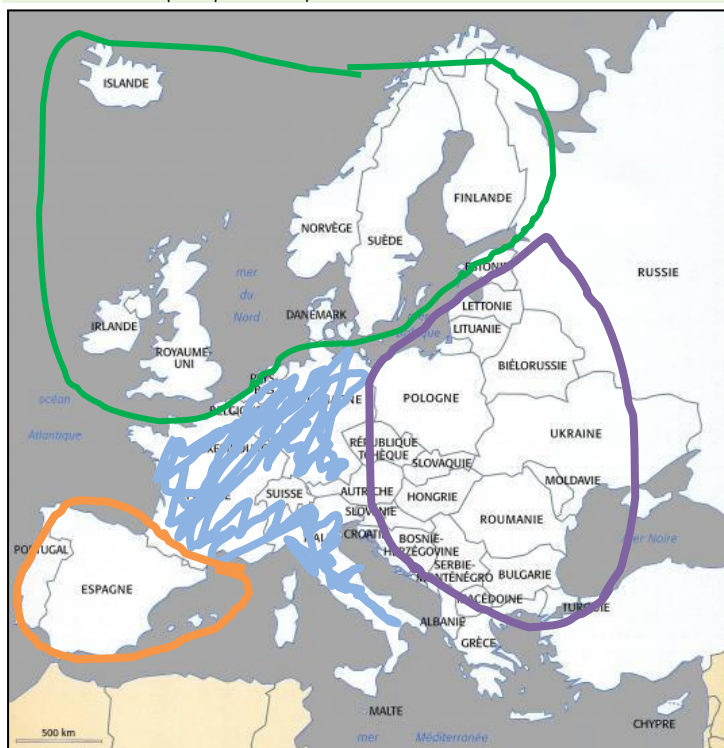
d) Quel est le climat **le plus favorable** et pourquoi ?

Le climat océanique car il n'est ni trop chaud, ni trop froid.

e) Ecris ce qui marque **la limite de l'Europe** :

- Au Sud : **La mer méditerranée**
- Au Nord : **L'océan glacial arctique**
- A l'est : **Le mont Oural**
- A l'ouest : **L'océan Atlantique**

2 L'Europe politique.



f) Colorie en bleu les pays fondateurs de l'Union Européenne. /6

g) Entoure en vert les pays qui les ont rejoint en premier. /1

h) Entoure en orange les pays qui les ont rejoint en deuxième /1

i) Entoure en violet les pays qui les ont rejoint en dernier. /1

j) Qu'est-ce qui a été créé avant l'U.E. et à quelles dates ? (2 réponses) /4

→ La CECA en 1951

→ La CEE en 1957

f) Dans quel but l'Union Européenne a-t-elle été créée ?

Pour créer une paix durable entre tous les pays.

g) Quels sont les avantages d'en faire partie ? (donnes-en au moins trois)

Meilleure économie avec la monnaie unique, les échanges commerciaux ; Pas de guerre entre les pays ; Economie grâce au tourisme et au marché unique.

h) Comment appelle-t-on la zone permettant la libre circulation des biens et personnes ?

L'espace Schengen.

3 L'Europe : un espace attractif.

Explique, le plus précisément possible :

d) Pourquoi les immigrés viennent s'installer en Europe :

Pour échapper à un pays en guerre, trouver une meilleure qualité de vie.

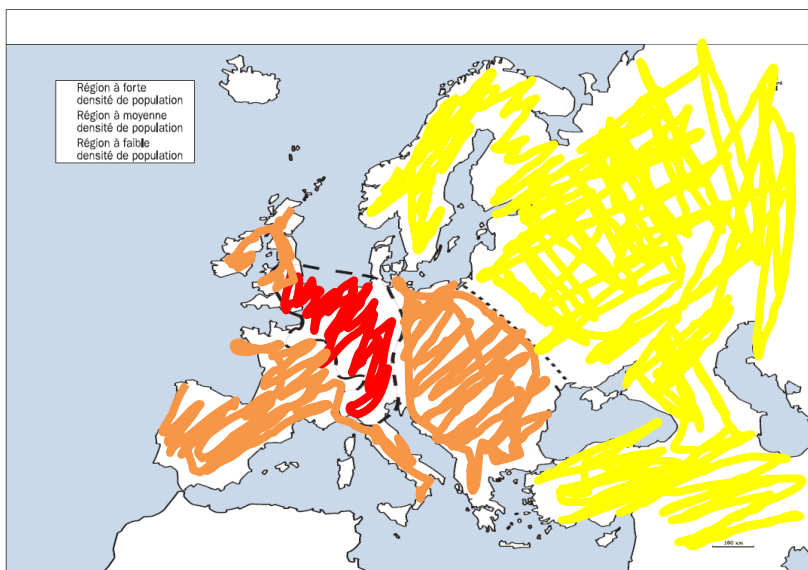
e) Pourquoi l'Europe est la première destination touristique mondiale :

Elle est très riche au niveau de la culture et au niveau des paysages et climats.

f) Pourquoi les entreprises viennent s'installer en Europe :

Car il y a de nombreuses offres d'emploi, un grand réseau de communication, un haut niveau de vie, une monnaie unique, une bonne économie.

4 La répartition de la population en Europe.



e) Colorie en rouge les régions à forte densité de population

f) Colorie en orange les régions à moyenne densité de population

g) Colorie en jaune les régions à faible densité de population

h) Complète la légende et donne un titre à la carte.

c) Où vit principalement la population européenne ? (deux endroits)

Dans le centre de l'Europe et le long des voies de communication (fleuves et routes)

d) Pour quelle raison les campagnes sont-elles désertées au profit des villes ?

Car il y a plus d'activités tertiaires et de services dans les villes.