


La COURSE AUX RÉPONSES



QUESTION
N°1

Ecris le numéro des phrases qui sont correctes :

- 1) Florian raconte une histoire drôle à sa soeur.
- 2) La nuit souvent fait des cauchemars il.
- 3) Le chat se faufile dans les herbes hautes.
- 4) Héloïse est très impressionnée
- 5) le pauvre petit lézard essaie de s'échapper.

La COURSE AUX RÉPONSES



QUESTION
N°3

*Ecris pour chaque phrase si elle est au passé,
au présent ou au futur.*

- 1) L'année prochaine, je changerai d'école.
- 2) Autrefois, les écoliers avaient un cartable en bois.
- 3) En ce moment, il pleut.

La COURSE AUX RÉPONSES



QUESTION
N°5

*Recopie la série de mot suivante dans l'ordre
alphabétique :*

passion – déclaration – groseille – pyrénées –
déclamer - girafe

La COURSE AUX RÉPONSES



QUESTION
N°7

Ecris le groupe de mot suivant au pluriel :

Le grand cheval broute dans le pré.

La COURSE AUX RÉPONSES




QUESTION
N°2

Écris en chiffre et en lettres les nombres suivants :

- 1) 902 314
- 2) huit-cent-vingt-mille-six-cent-cinquante-trois

La COURSE AUX RÉPONSES



QUESTION
N°4

Pose les deux opérations suivantes :

- 1) $95 + 137$
- 2) $954 - 82$

La COURSE AUX RÉPONSES



QUESTION
N°6

Pour chaque polygone, indique le nombre de côtés et le nombre de sommets :



La COURSE AUX RÉPONSES




QUESTION
N°8

Calcule la somme indiquée par les pièces et les billets :



La COURSE AUX RÉPONSES



QUESTION
N°9

Transforme la phrase affirmative suivante en phrase interrogative :

- 1) Le linge sèche sur la corde.

La COURSE AUX RÉPONSES



QUESTION
N°11

Ecris quel est le groupe de chaque verbe :
1^{er}, 2^{ème} ou 3^{ème} :

- | | |
|-------------|------------|
| 1) agiter | 4) pouvoir |
| 2) ralentir | 5) casser |
| 3) cueillir | 6) venir |

La COURSE AUX RÉPONSES

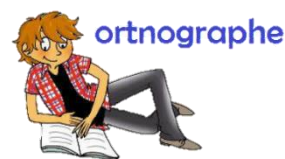


QUESTION
N°13

Recopie le synonyme ou le contraire des mots soulignés :

- 1) Ce verre est cassé (synonyme)
- 2) J'ai trouvé ta maison très facilement (contraire)

La COURSE AUX RÉPONSES



QUESTION
N°15

Ecris les homophones qui conviennent :

- 1) A la campagne, les gens (on – ont) de grandes maisons.
- 2) (On – Ont) ne se souvient plus de ton adresse.
- 3) Il a perdu (son – sont) livre.
- 4) Après le match, ils (son – sont) allés prendre une douche.

La COURSE AUX RÉPONSES




QUESTION
N°10

Compare les nombres suivant en écrivant < ou > :

- 1) 58 469 ... 5 978
- 2) 600 000 ... 578 321
- 3) 18 745 ... 18 724
- 4) 56 124 ... 56 620

La COURSE AUX RÉPONSES



QUESTION
N°12

Ecris les résultats des multiplications suivantes :

- | | |
|-----------------|-----------------|
| 1) 2×7 | 4) 6×8 |
| 2) 4×3 | 5) 4×6 |
| 3) 5×5 | 6) 5×3 |

La COURSE AUX RÉPONSES



QUESTION
N°14

Ecris dans quelles figures les droites sont perpendiculaires :



La COURSE AUX RÉPONSES




QUESTION
N°16

Indique combien mesure chaque crayon de couleur :



La COURSE AUX RÉPONSES



QUESTION
N°17

Recopie le verbe conjugué en noir et le sujet en bleu :

Demain, mes parents inviteront des amis à
diner.

La COURSE AUX RÉPONSES



QUESTION
N°19

Conjugué les verbes aux temps demandés :

- 1) **imparfait** : Dehors, la pluie (tomber) sur les toits.
- 2) **futur** : Dans un an, mon frère (avoir) l'âge de conduire.
- 3) **présent** : Je (faire) un exercice.

La COURSE AUX RÉPONSES



QUESTION
N°21

*Ecris deux mots qui correspondent au champ
lexical indiqué :*

- 1) le sport
- 2) les sucreries

La COURSE AUX RÉPONSES



QUESTION
N°23

Ecris les homophones qui conviennent :

- 1) Il faudra penser (a – à) ranger ton bureau.
- 2) Ma soeur (a – à) très envie de jouer.
- 3) Il (et – est) tard, nous allons rentrer.
- 4) Bientôt, Lilou (et – est) son frère iront seuls à l'école.

La COURSE AUX RÉPONSES




QUESTION
N°18

Écris en chiffres, comme dans l'exemple :

$$(4 \times 1000) + (2 \times 100) + (1 \times 10) + 5 = 4\,215$$

- 1) $(5 \times 10\,000) + (7 \times 1\,000) + (2 \times 100) + (4 \times 10) + 9$
- 2) $(3 \times 1\,000) + (8 \times 100) + 5$

La COURSE AUX RÉPONSES



QUESTION
N°20

Écris les résultats des multiplications suivantes :

- 1) 19×100
- 2) 276×10
- 3) $12 \times 1\,000$

La COURSE AUX RÉPONSES



QUESTION
N°22

Écris les figures symétriques par rapport à l'axe rouge :



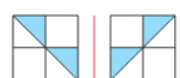
A



B



C




D

La COURSE AUX RÉPONSES



QUESTION
N°24

Écris la masse de ces deux éléments (avec l'unité) :





français

La COURSE AUX RÉPONSES



maths

Nom :

Prénom :

question n°1
question n°2	1) 2)
question n°3	1) 2) 3)
question n°4	1) 2)
question n°5
question n°6	1) 2)
question n°7
question n°8
question n°9
question n°10	1) 2) 3) 4)
question n°11	1) 2) 3) 4) 5) 6)
question n°12	1) 2) 3) 4) 5) 6)
question n°13	1) 2)
question n°14
question n°15	1) 2) 3) 4)
question n°16
question n°17
question n°18	1) 2)
question n°19	1) 2) 3)
question n°20
question n°21	1) 2)
question n°22
question n°23	1) 2) 3) 4)
question n°24	1) 2)