

Prénom : _____

Date : _____

1 Dictée de nombres.

--	--	--	--	--	--

2 Relie les étiquettes qui vont ensemble.

5 dizaines et 2 unités

04

4 unités

5 unités et 2 dizaines

08

52

25

80

9 dizaines et 3 unités

39

8 dizaines


73

7 dizaines et 3 unités

3 Entoure les nombres de cartes et de perle qu'il faut pour obtenir le nombre de Moustik.



4 Combien de cerises Fatou a-t-elle cueillies ?



Fatou a cueilli _____.


5 Fatou prépare des sachets de 10 cerises, combien pourra-t-elle en faire ?

Elle pourra faire _____.

Prénom :

Date :

6 Combien y a-t-il d'escargot ?


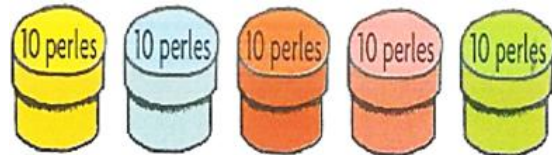


Il y a _____.

7 Petit problème.

Lisa a besoin de **83** perles.Elle a déjà **5 boîtes de 10 perles.**

Dessine ce qui lui manque.



8 Complète avec les signes < ou >.

38 47

40 29

17 71

86 76

29 38

46 64

79 89

78 88