

Prénom :

Date :

1 Ecris le résultat aux problèmes suivants :

Combien reste-t-il de balles dans la boîte ?



Il reste ..... balles.

Arthur avait dessiné 39 fusées. Combien y'a-t-il de fusées sous la tâche ?



Il y a ..... fusées.

2 Ecris en chiffre :

quatre-vingt-douze : .....

quatre-vingt-dix-sept : .....

soixante-quatorze : .....

soixante-huit : .....

quatre-vingt-sept : .....

soixante-dix-huit : .....

3 Relie les étiquettes pour obtenir le nombre, comme dans l'exemple.

exemple

78

soixante dix

sept huit

65

six soixante

quinze cinq

95

neuf quatre

vingt

cinq quinze

73

soixante sept

treize trois

80

huit zéro

dix

quatre vingts

97

sept dix

neuf

quatre vingt


Prénom :

Date :

1 **Ecris** le résultat des calculs que te dicte la maitresse.


a  b  c  d  e  f

2 **Combien** y'a-t-il de perles ?



Il y a ..... perles.

3 **Combien** de fleurs Zoé a-t-elle dessinées ?



Elle a dessiné ..... fleurs.





Prénom :

Date :

1 **Ecris** le résultat des calculs que te dicte la maitresse.

a  b  c  d  e  f


2 **Relie** les points pour **tracer** :

2 carrés en *rouge*, 1 triangle en *bleu* et 1 triangle en *vert*



3 Arthur donne 7 billes à Zoé.

Combien de billes reste-t-il à Arthur ?




.....  
.....

4 **Calcule** :

$$42 - 5 = \dots\dots\dots$$

$$30 - 7 = \dots\dots\dots$$

$$51 - 9 = \dots\dots\dots$$





Prénom :


Date :

1 **Ecris** le résultat des calculs que te dicte la maitresse.


a  b  c  d  e  f  g  h  i

2 **Effectue** ces calculs en posant les opérations :


$45 + 36$



$73 + 17$



$54 + 36$




3 **Complète** :




Il est ..... Il est ..... Il est .....

4 **Relie** les étiquettes qui correspondent à la même heure :



Il est midi.



Il est 9 heures 30.

Prénom : \_\_\_\_\_ Date : \_\_\_\_\_

	A	B	C	D
Ecrire des nombres de 80 à 89	○	○	○	○



1 Ecris les nombres dictés : \_\_\_\_\_

a  b  c  d  e  f  g



2 Ecris en lettre : \_\_\_\_\_

86 : .....  
90 : .....  
72 : .....



3 Ecris en chiffres : \_\_\_\_\_


soixante-seize : .....      soixante-dix-neuf : .....  
quatre-vingts : .....      quatre-vingt-deux : .....  
quatre-vingt-seize : .....      quatre-vingt-dix : .....

	A	B	C	D
Calculer une différence.	<input type="radio"/>	<input type="radio"/>	<input type="radio"/>	<input type="radio"/>

papa

4 Résous le problème suivant :

Arthur donne 6 billes à Zoé. Combien de billes reste-t-il à Arthur ?



.....

.....


	A	B	C	D
Lire les heures et les demi-heures.	<input type="radio"/>	<input type="radio"/>	<input type="radio"/>	<input type="radio"/>

papa

5 Complète :



Il est .....



Il est .....



Il est .....