

Prénom :

Date :

1

Ecris le résultat du problème que te dicte la maitresse.

Problèmes dictés




2

Ecris combien il y a de photos dans la boîte

Problèmes

Combien reste-t-il de pailles dans le paquet ? .....



Combien d'os Gribouille a-t-il mangés ? .....



3

Relie entre elles les étiquettes qui représentent le même nombre..

Représentations des nombres

27

41

 $10 + 10 + 10 + 7$  $10 + 10 + 10 + 10 + 1$ 

19

54



35

 $10 + 10 + 10 + 5$  $10 + 9$  $10 + 10 + 10 + 4$

Prénom :

Date :

1

Ecris le résultat des calculs que te dicte la maitresse.

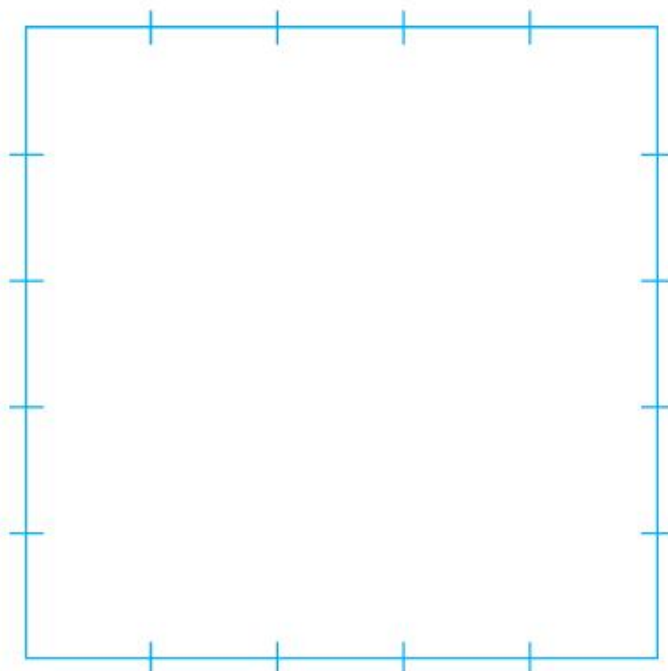
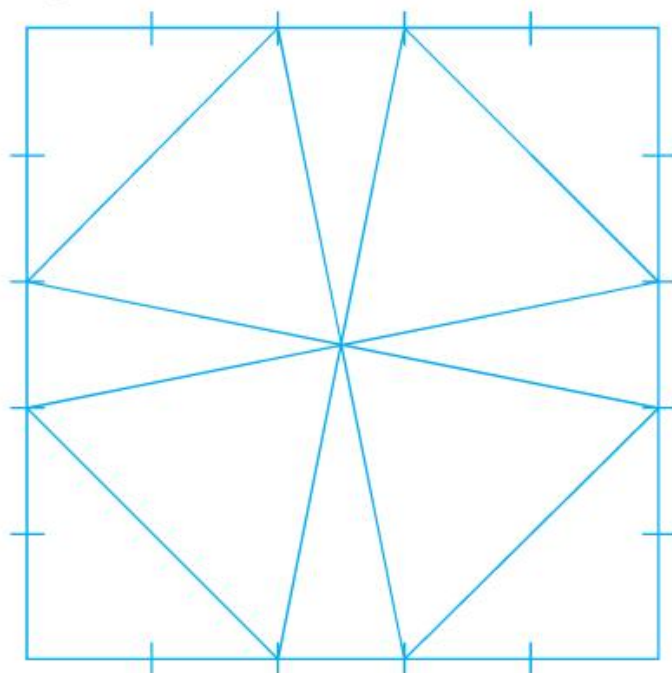
Calculs dictés

a  b  c  d  e  f 

2

Reproduis le modèle.

Tracés à la règle



Prénom :

Date :

1

Ecris le résultat des calculs que te dicte la maîtresse.

Calculs dictés

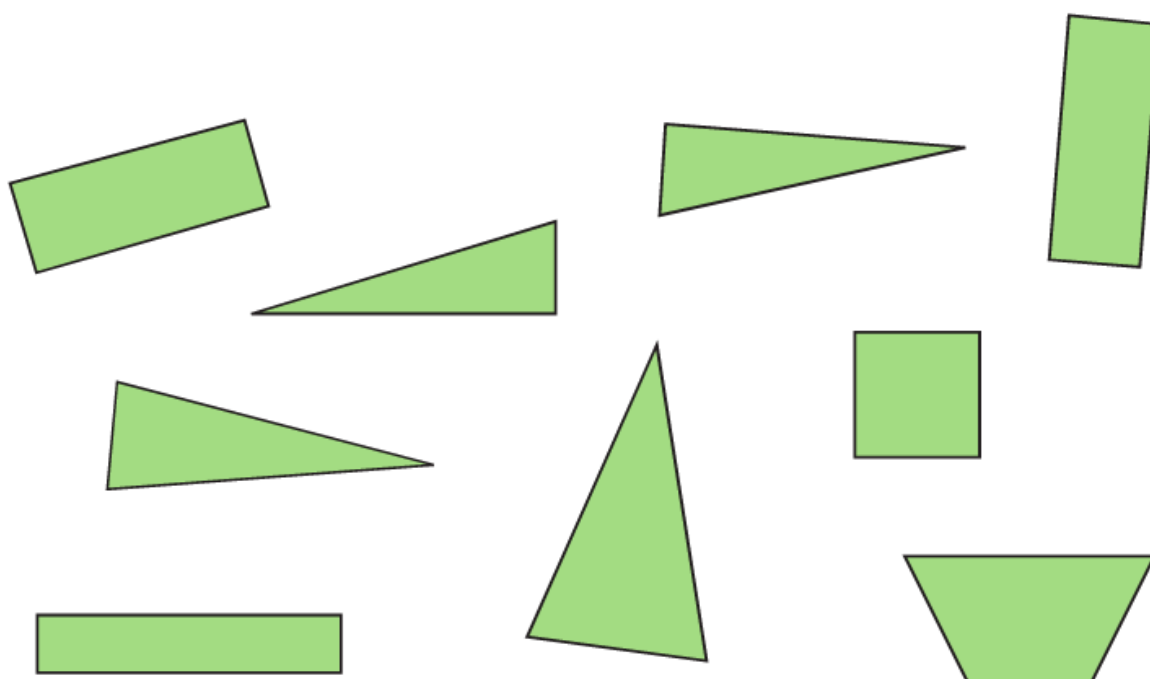
a  b  c  d  e  f 

2

Entoure chaque triangle.

Reconnaissance de figures

Mets une croix dans chaque rectangle.



3

Résous les calculs suivants.

Sommes de plusieurs nombres

2	6	8	
1	5		

Écris deux sommes qui permettent d'atteindre la cible.

.....

.....

2	6	7	
8	9		

Écris deux sommes qui permettent d'atteindre la cible.

.....

.....

Prénom :

Date :

1 Ecris le résultat du problème que te dicte la maitresse.


Problèmes dictés



2 Résouds les problèmes suivants.

Problèmes

Zoé a fait trois colliers. Sur chaque collier, elle a mis huit perles.

**Combien** de perles Zoé a-t-elle utilisées ? .....**Combien** y a-t-il de lapins sous la tache ? .....

3 Effectue ces additions en colonne.

Somme de deux nombres

34	25	48
+ 23	+ 35	+ 22
-----	-----	-----

4 Effectue ces additions en ligne.

40 + 17


43 + 46


32 + 28


Prénom :

Date :

1

Ecris le résultat des calculs que te dicte la maîtresse.

Calculs dictés

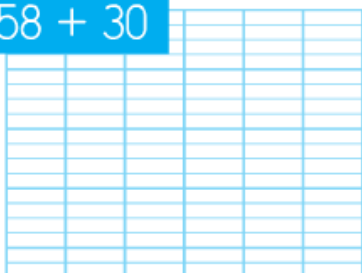
a  b  c  d  e  f 

2


Pose les additions en colonne ou en ligne.

Somme de deux nombres

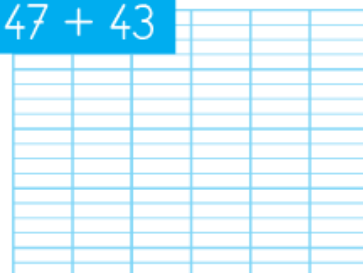
$58 + 30$



$55 + 23$



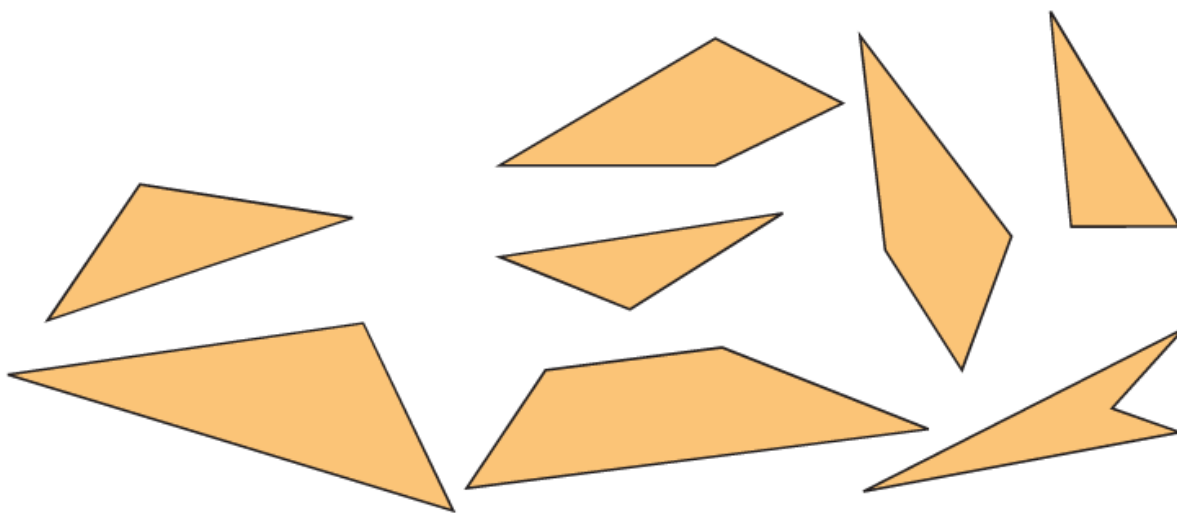
$47 + 43$



3

Entoure chaque triangle.

Triangles



4

Avec la règle, trace des triangles en reliant des points.



Prénom :

Date :

1 **Ecris** le résultat des calculs que te dicte la maitresse.

Calculs dictés

a b c d e f 2 **Relie** entre elles les étiquettes qui représentent le même nombre.

Les nombres de 60 à 79

 $10 + 10 + 10 + 10 + 10 + 5$ 

65

75

 $70 + 5$ 

soixante-cinq

soixante-quinze

55

 $10 + 10 + 10 + 10 + 10 + 10 + 5$ 3 **Complète** le tableau.

vingt-deux	22	$10 + 10 + 2$
soixante-dix		
soixante-dix-sept		
		$10 + 10 + 10 + 10 + 10 + 10 + 8$
		$10 + 10 + 10 + 10 + 10$
	44	
	78	
	73	

Prénom :

Date :

	A	B	C	D
Écrire, lire et décomposer des nombres jusqu'à 79	<input type="radio"/>	<input type="radio"/>	<input type="radio"/>	<input type="radio"/>

papa

1 Complète le tableau suivant :

quinze	15	$10 + 5$
quarante et un		$10 + 10 + 10 + 10 + 1$
cinquante-deux		
		$10 + 8$
		$10 + 10 + 10 + 10 + 7$

papa

2 Ecris les nombres dictés par la maitresse :

a  b  c  d  e  f  g 

papa

3 Relie les deux écritures du même nombre :

74

soixante-quatorze

quarante-sept

soixante-quatre

47

64


Calculer une somme de 2 nombres, en ligne ou en colonne : savoir choisir le type d'opération avec lequel on est le plus à l'aise.

A	B	C	D
<input type="radio"/>	<input type="radio"/>	<input type="radio"/>	<input type="radio"/>


papa

4 Calcule les additions suivantes en les posant en colonne ou en ligne.


$35 + 53$



$37 + 43$



$58 + 27$



Tracer des triangles en se servant de leurs propriétés.

A	B	C	D
<input type="radio"/>	<input type="radio"/>	<input type="radio"/>	<input type="radio"/>

5

Avec la règle, trace des triangles en reliant des points.

